

31/2019 EBAZPENA, otsailaren 1ekoa

23-05-2019

ΕΡΑΙΜΑΗΑ



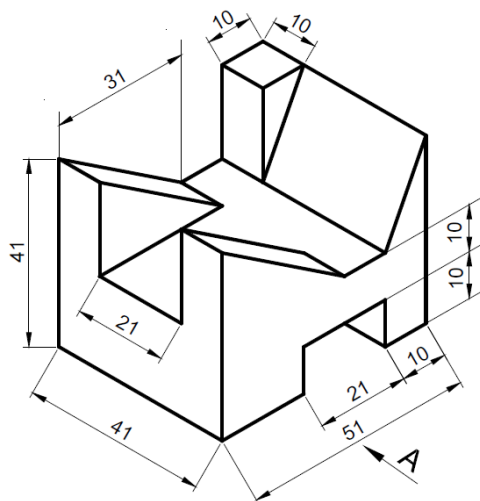
KALIFIKAZIOA

DEITURAK

IZENA**NANa/ANTa**

- 1.- Marraztu, UNE arauaren arabera, irudikatzeko beharrezkoak diren bistak.

- Ariketa gehieneko puntuazioarekin baloratzeko, bisten artean egon behar du horri buruz UNEk ezartzen duen baliokidetza.
- Ez jarri kotarik.




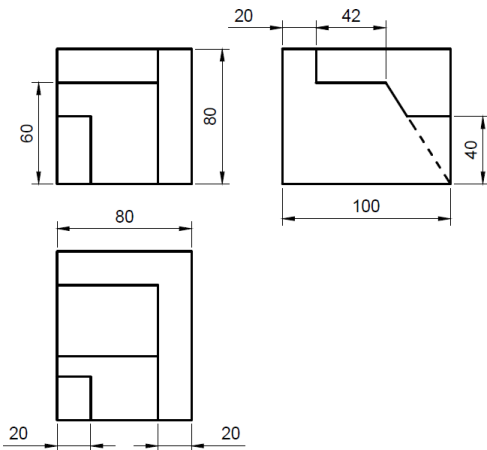
**GOI MAILAKO HEZIKETA ZIKLOETARAKO SARBIDE PROBA
ZIENTZIETAKO ETA INGENIARITZAKO BERARIAZKO ZATIA
2019ko DEIALDIA**

31/2019 EBAZPENA, otsailaren 1ekoa

23-05-2019

MARRAZKETA TEKNIKOA

2.- Marraztu objektu baten bistek emandako perspektiba isometrikoa.



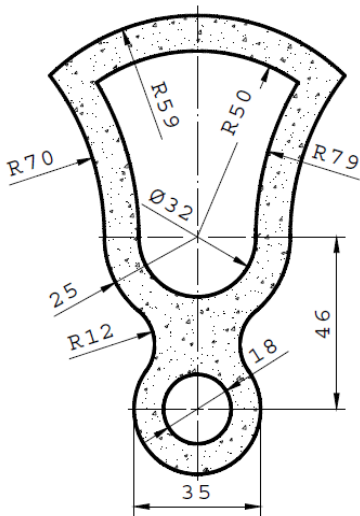
**GOI MAILAKO HEZIKETA ZIKLOETARAKO SARBIDE PROBA
ZIENTZIETAKO ETA INGENIARITZAKO BERARIAZKO ZATIA
2019ko DEIALDIA**

31/2019 EBAZPENA, otsailaren 1ekoa

23-05-2019

MARRAZKETA TEKNIKOA

- 3.- Kopia ezazu irudia 1:1 eskalan, argi adieraziz lotura arkuen arteko tangenzia puntuak eta zentroak.
- Ez ezabatu tangenzia zentroen eta puntuen posizioa lortzeko behar diren trazadurak
 - Itzaleztaduraren ordeiz, jar ezazu UNEK altzairuzko piezen sekzioetarako ezartzen duen marradura
 - Ez jarri kotarik



GOI MAILAKO HEZIKETA ZIKLOETARAKO SARBIDE PROBA
ZIENTZIETAKO ETA INGENIARITZAKO BERARIAZKO ZATIA
2019ko DEIALDIA

31/2019 EBAZPENA, otsailaren 1ekoa

23-05-2019

MARRAZKETA TEKNIKOA

4.- Marraztu ezazu hexagono erregular bat, hemen irudikatuta dagoen AB aldea duena.

